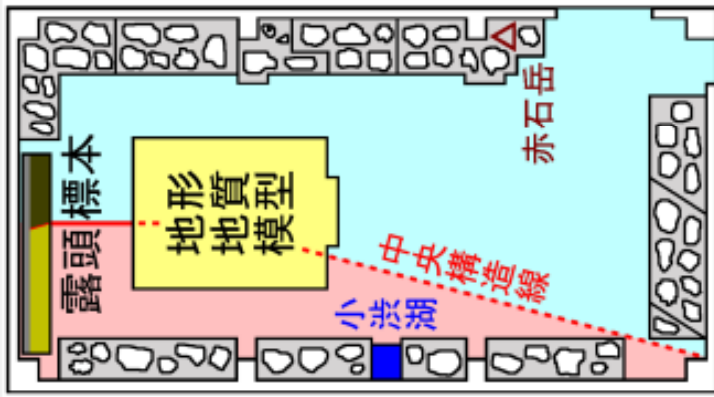


問題A 各問題2点、合計4点



「大鹿村中央構造線」の1階展示室の床(カーペット)の色分けは何を表しているでしょうか？問1.赤、問2.水色(上記図範囲)

問題B 各問題2点、合計4点



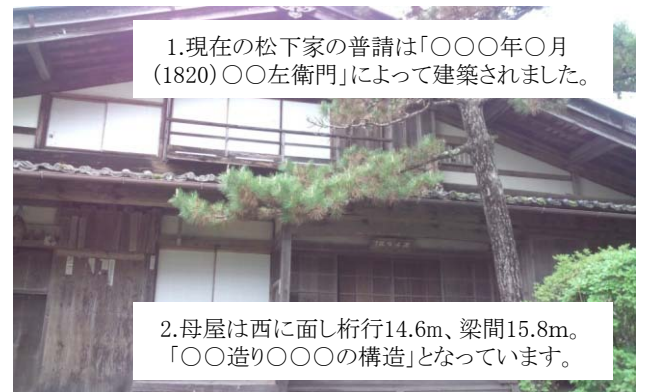
中央構造線博物館岩石園よりです。問1.この岩石の名前は？問2.採取地はどこでしょうか？

問題C 各問題2点合計6点



安康露頭についてです。問1.2.3.空欄を埋めて答えて下さい。

問題D 各問題1点合計2点



松下家住宅についてです。問1.2.空欄を埋めて答えて下さい。

問題E 各問題1点合計3点



松下家の位置についてです。問1.北緯、問2.東経、問3.標高、はそれぞれいくつでしょうか？

問題F 各問題1点合計2点



福德寺についてです。問1.仏像の台座には何年の建立とあるか？、問2.天保十年にお堂を浜松に持って行こうとしたのは誰でしょうか？



問題G 各問題1点合計4点



旧小渋橋についてです。問1～4.小渋橋の意匠を4つ上げて実際に橋を確認して下さい。

問題H 各問題2点合計4点



夕立神の緑色岩は2億年前～1奥5000万年前(中生代ジュラ紀)に問1.「どこにあった 何の一部」だったのでしょうか？ 又、問.2もとのジュラ紀の海底火山は何と呼ばれているのでしょうか？

問題I 各問題1点合計2点



この夕立神展望台から見える山々の解説パネルのうち問1.中央アルプスの中で一番高いのは？ 問2.南アルプスの中で一番高いのは？ 名前と高さを答えて下さい。

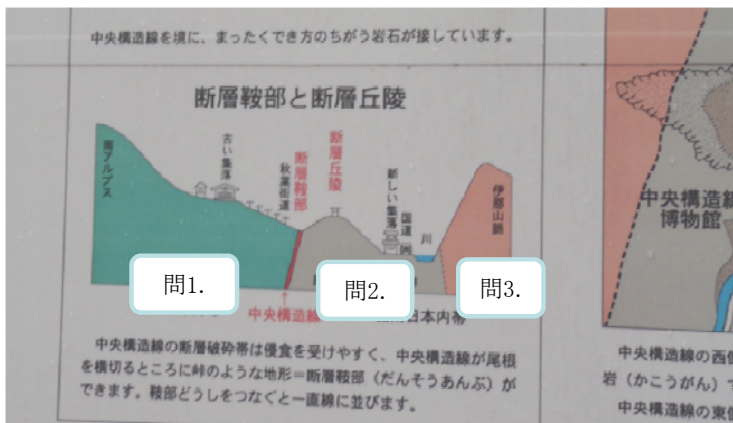
問題J 各問題2点合計6点



岩石園の岩塊は  
問1.「〇〇時代の〇〇〇〇万年前」に、深さ15km付近で、  
問2.「〇〇〇が固まった〇〇〇岩」です。

大西山崩壊礫保存園について。問1.2.上記の空欄を埋めて答えて下さい。問3.「マイロナイト」とは、どこで中央構造線のずれ動きを受け延ばされるように変形した岩石でしょうか？

問題K 各問題2点合計6点



中央構造線断層鞍部について、問1.～3.上記の西南日本外帯と西南日本内帯の岩石は何でしょうか？

問題L 各問題1点合計4点



南アルプスの岩石が出来た場所はどこ？、問1砂岩や泥岩、問2.チャート、問3.石灰岩、問4.緑色岩やはんれい岩



おおしかクイズ&ラリー 2015年第1回「安康-夕立神コース」問題 p3

X問題は場所を明示しません。コマ図どおりに走った場合、あるキーワードの順に出てきます。

問題X-1



さ

転石の色と大きさは？

問題X-2



へ

この標識(看板)を作ったのは何隊？、隊員何名？

問題X-3



せ

功さんは何度、誰と鳥倉へ通ったのでしょうか？

問題X-4



い

この階段は全部で何段？踊り場と最上段も1段と数えます。

問題X-5



た

この茶屋堂は大昔、陣鐘堂と呼ばれていたのはなぜか？

問題X-6



わ

勤王の史家、日栄萬之助が謹詠した四十八のいろは文字志の4行目(左)は？

問題X-7



ん

この周辺に生息する野生動物は？

問題X-8



ん

このお姉さん？の膝上「場」はなに？

問題X-9



ば

村道21号線の幅員・最急勾配は？

問題X-10



い

この看板に鹿何頭、ホテル何匹描かれているのでしょうか？

問題X-11



が

この看板にある距離を全て足すと何km？

X問題は位置を明示してありません。写真とキーワードをヒントに探して下さい。

減点は1問不正解につき1点減点とします。

X-1, X-2, X-11の前は2回通ります。キーワードは最初に通る時の順番です。